



- Consignes :**
1. L'usage de la calculatrice programmable est formellement interdit.
 2. Tout gadget électronique (Tél., tablette, iPad, montre intelligente) est formellement interdit dans la salle d'examen.
 3. Le silence est obligatoire dans la salle, il crée de meilleures conditions de travail.

Durée de l'épreuve : 2 h 30

Série A : Histoire de l'art (60 points)

I- Dissertation (40 pts.)

Choisir un sujet :

- 1- Commenter cette assertion d'André Breton :
« Haïtien est un peuple d'artiste »
- 2- Quel est le rôle des artistes dans la société ?


II- Questions obligatoires (20 points)

- 1- Remplir ce tableau en citant deux exemples pour chaque catégorie d'art : (2 pts.)

Arts	Exemple I	Exemple II
Arts visuels		
Arts de la scène		
Arts de l'espace		

- 2- Quelle est la matière de base des artistes du village Naille à Croix-des-bouquets ? (2 pts.)
- 3- Donner le nom de cet artiste :
 - a) L'un des artistes du Cap qui a marqué l'histoire de la peinture à côté de ces frères. (2 pts.)
 - b) Qui s'était fait passer pour un houngan et a laissé un patrimoine artistique remarquable, sur une période de 10 ans ? (2 pts.)
- 4- Comment s'appelle celui ou celle qui : (5 pts.)
 - Possède une collection : -----
 - Pratique le carrelage : -----
 - Fait des portraits : -----
 - Fait des tableaux : -----
 - Pratique le théâtre : -----

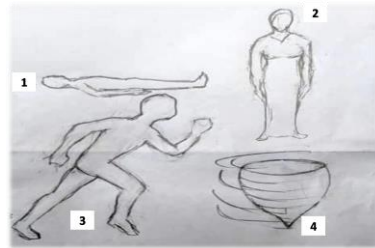
- 5- Ceci est un tableau de l'artiste peintre Hector Hyppolite. Existe-t-il une relation entre le sujet et notre histoire de peuple ? Quel est le sujet traité ? Qu'est-ce qui est représenté ? (3 pts.)



- 6- En retraçant les moments forts de l'histoire du Centre d'Art, indiquez sous quel président il a été créé. (2 pts.)
- 7- A quelle tranche de l'histoire de l'art haïtien se rattachent ces noms : Dewitt Peters, Garoute Jean Claude (Tiga), Lucien Price, Georges Liauteau. (2 pts.)

Série B : Arts plastiques (20 pts)

1. Arranger les éléments en ordre dans la préparation de l'argile. (5 pts)
Broyage, malaxage, décantation, tamisage, mis au séchoir.
2. Dans quel domaine des arts plastiques on utilise cette liste de matériels : modelage, Argile, glaire, la cire, le plâtre, la plastiline? (4 pts)
 Dessin Peinture sculpture modelage.
3. Observer l'image ci-dessous d'après le rôle de la ligne (en Dessin), à quel type de ligne on peut identifier les lignes suivantes : (4 pts)




	Courbes
	Verticales
	Horizontales
	Obliques

4. Suivant le placement des couleurs en degré dans le cercle chromatique, les couleurs primaires pigments sont : (3 pts)
 - a. Rouge, vert, bleu.
 - b. Rouge, jaune, bleu.
5. Comment peut-on avoir une couleur primaire, pigment (quel mélange)? (4 pts)

Série C : Musique (20 pts)

- I- Utiliser les dièses et les bémols pour écrire les armatures suivantes sur la portée. (4 pts)



- II- Calculer le nombre de tons et de demi-tons pour chaque intervalle suivant. (6 pts)

- a) Seconde mineur
- b) Seconde majeure
- c) Tierce mineure
- d) Tierce majeure
- e) Quinte juste

- III- Citer les tétracordes supérieurs. (4 pts)

- IV- Regrouper les musiciens par période. (4 pts)
Joseph Haydyn, Georg Fiedrich Haendel, Frederic Chopin, Johann Sebastien, Bech Ludwid, Van Luidgy Bethoven, Amadeus Mozart.

Baroque	Classique	Romantique

- V- Quelle est jusqu'à présent la réjouissance périodique la plus populaire de la ville de Léogâne ? (2 pts)